

Warnzeichen-1

Aufgabe 1

Vor welchen Gefahren warnen die folgenden Symbole? Kreuzen Sie bitte die richtige Lösung an.

1.



- a.) Warnung vor Gegenverkehr
- b.) Warnung vor Einzugsgefahr
- c.) Warnung vor herannahenden Curlingsteinen

2.



- a.) Warnung vor Turmspringern von oben
- b.) Warnung vor überhoher Treppenstufe
- c.) Warnung vor Absturzgefahr

3.



- a.) Warnung vor spritzenden Stoffen
- b.) Warnung vor verschmutztem Wasser
- c.) Warnung vor ätzenden Stoffen

4.



- a.) Warnung vor explosionsfähiger Atmosphäre
- b.) Warnung vor zuschlagender Brandschutztür
- c.) Warnung vor ehemaligen Mitarbeitern

5.



- a.) Warnung vor elektromagnetischem Feld
- b.) Warnung vor Ventilator
- c.) Warnung vor Fledermäusen

6.




- a.) Warnung vor Waldbrandgefahr
- b.) Warnung vor feuergefährlichen Stoffen
- c.) Warnung vor explosionsfähigen Stoffen

7.



- a.) Warnung vor Rollstuhlfahrer
- b.) Warnung vor Traktoren
- c.) Warnung vor Flurförderzeugen

8.



- a.) Warnung vor ausrollendem Teppich
- b.) Warnung vor Planierraupen
- c.) Warnung vor Fräswelle

9.



- a.) Warnung vor einem Engpass
- b.) Warnung vor Quetschgefahr
- c.) Warnung vor aggressiven Türstehern

10.




- a.) Warnung vor Rutschgefahr
- b.) Warnung vor starker Strömung
- c.) Warnung vor Kriechstrom

Nachhilfe-Oberberg


Aufgabe 2

Ordnen Sie den Erklärungen das entsprechende Warnzeichen zu!



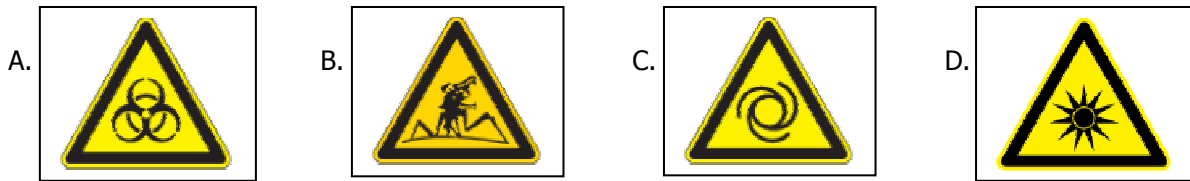
- | | | |
|---|--|-------|
| A | Warnung vor Handverletzungen durch Kettenantrieb | _____ |
| B | Warnung vor hoher Luftfeuchtigkeit | _____ |
| C | Warnung vor Überdruck | _____ |
| D | Warnung vor einer Gefahrenstelle | _____ |
| E | Warnung vor Erstickten | _____ |
| F | Warnung vor dem Heben schwerer Gegenstände | _____ |
| G | Warnung vor hoher Temperatur | _____ |
| H | Warnung vor automatischem Anlauf | _____ |
| I | Warnung vor Gehörschäden | _____ |
| J | Warnung vor Industrierobotern | _____ |
| K | Warnung vor Gefahren durch Batterien | _____ |
| L | Warnung vor schwebender Last | _____ |
| M | Warnung vor Gasflaschen | _____ |
| N | Warnung vor Umweltschädigung | _____ |
| O | Warnung vor explosionsgefährlichen Stoffen | _____ |
| P | Warnung vor heißer Oberfläche | _____ |

Nummer:




Aufgabe 3

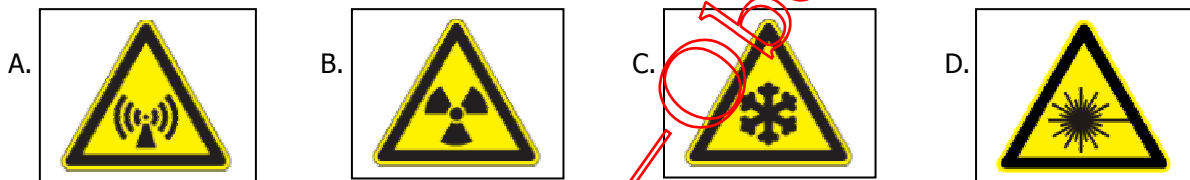
1.) Welches der Zeichen warnt vor einer Biogefährdung?



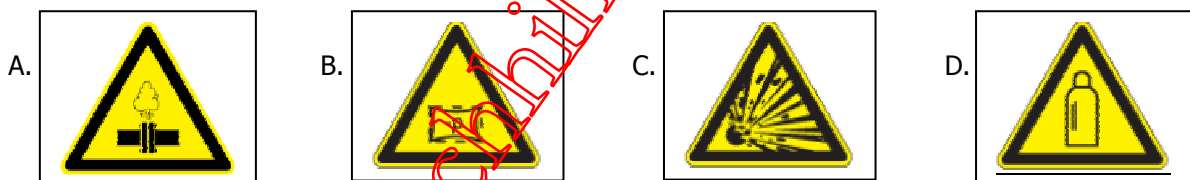
2.) Welches der Zeichen warnt vor einer Verletzung durch einen Zahnradantrieb?



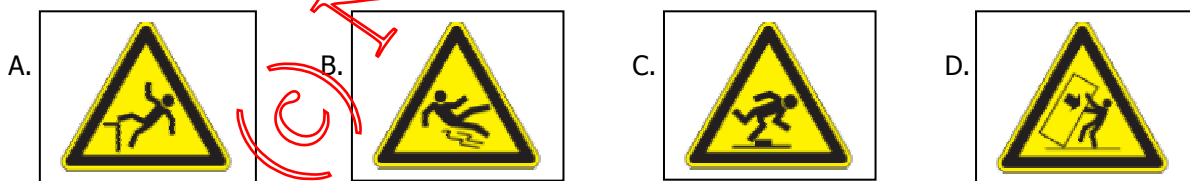
3.) Welches der Zeichen warnt vor radioaktiven Stoffen?



4.) Welches der Zeichen warnt vor Überdruck?



5.) Welches der Zeichen warnt vor der Gefahr des Stolperns?



6.) Welches der Zeichen warnt vor gesundheitsschädlichen Stoffen?

